

# エンドプレース End Place



例題

4マス

		②
③		
	①	

⇒

解答

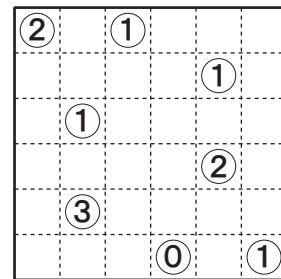
		②
③		
	①	

## 《ルール》

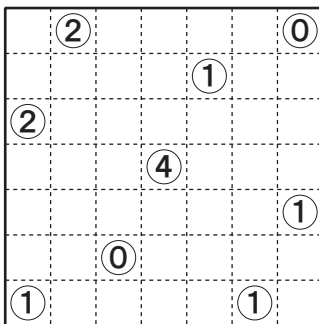
盤面に指定の長さの蛇を何匹か配置してください。  
 蛇同士が重なってはいけません。  
 数字はそのマスと縦横で隣り合うマスに蛇の「端」がいくつ入るかを表します。



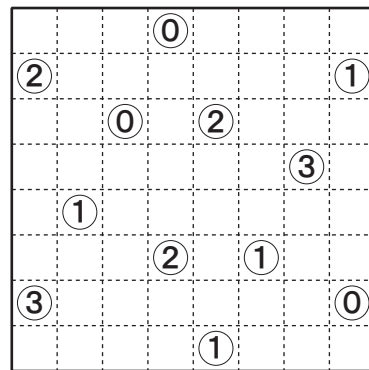
4マス



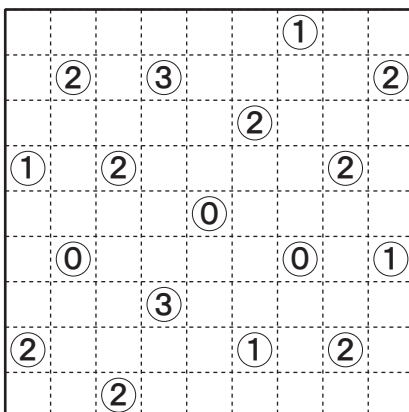
5マス



6マス



5マス



3マス

