

レクタングル Rectangles



例題

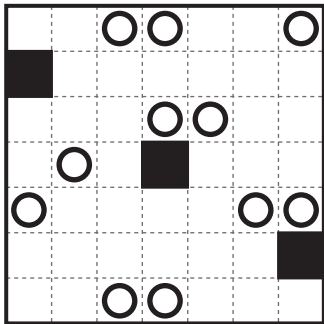
⇒

解答


《ルール》

全ての白マスを、○を一つずつ含む四角形のブロックに分割してください。
どの隣り合う二つのブロックをペアにしても四角形にならないようにします。

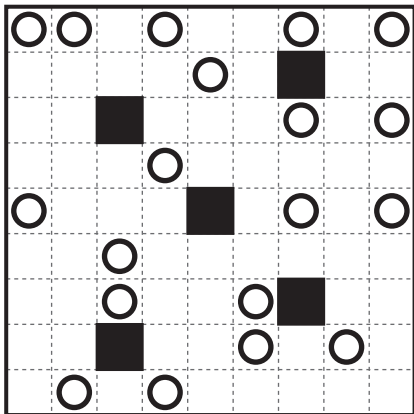
1



2



3



4

