

4マス分割 Divide-Four



例題

○	○	
		○
○		

⇒

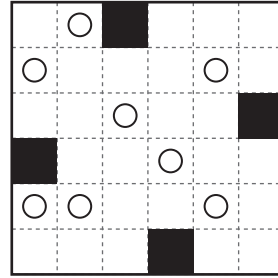
解答

○	○	
		○
○		

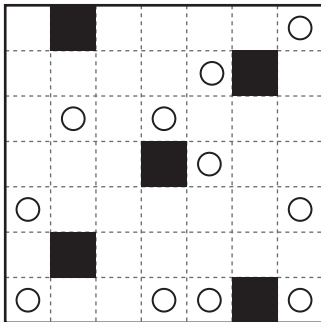
《ルール》

すべての白マス（○）を一つずつ含む
4マスのブロックに分割してください。


1




2



3



4



5

