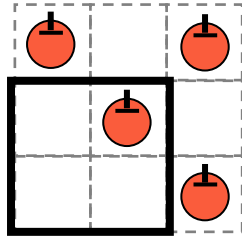


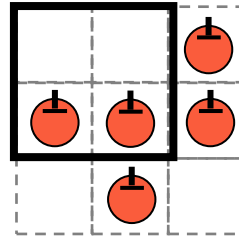
かずさがし

・いわれたところを「たて2 よこ2 のしかく」でかこみましょう

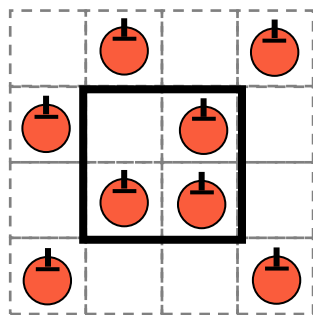
(1) 1こはどこ？



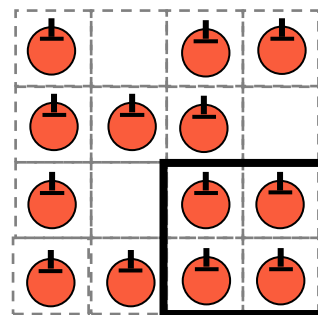
(2) 2こはどこ？



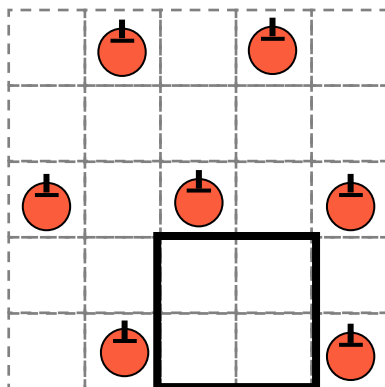
(3) 3こはどこ？



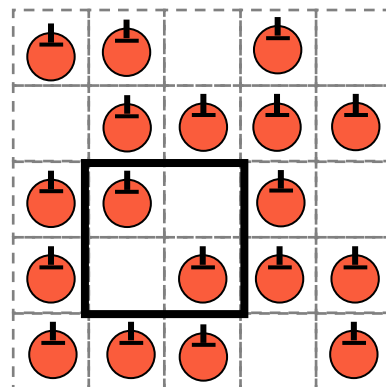
(4) 4こはどこ？



(5) 0こはどこ？



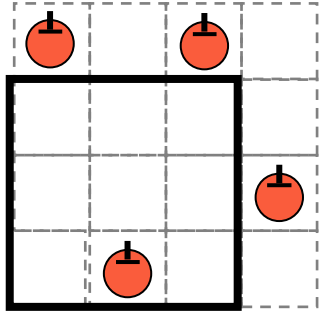
(6) 2こはどこ？



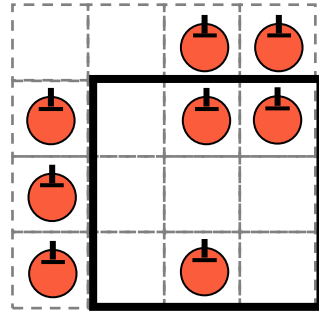
かずさがし

・いわれたところを「たて3 よこ3 のしかく」でかこみましょう

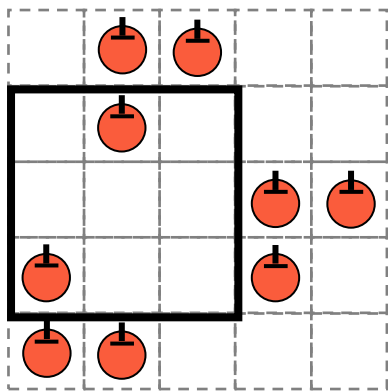
(7) 1こはどこ？



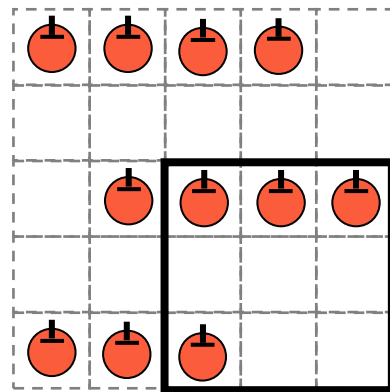
(8) 3こはどこ？



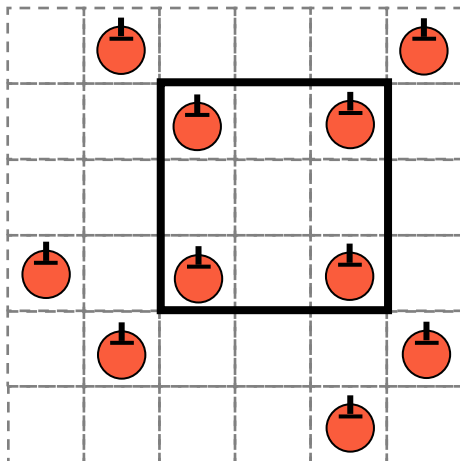
(9) 2こはどこ？



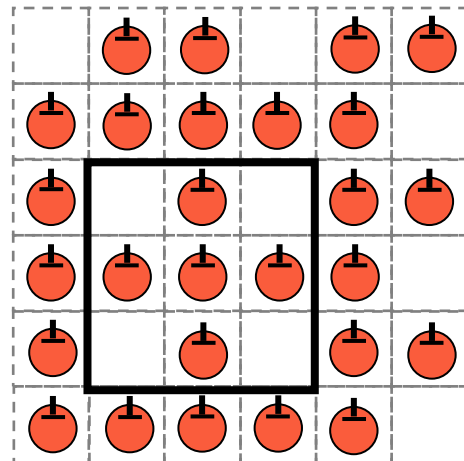
(10) 4こはどこ？



(11) 4こはどこ？



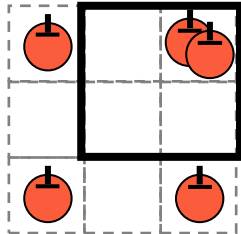
(12) 5こはどこ？



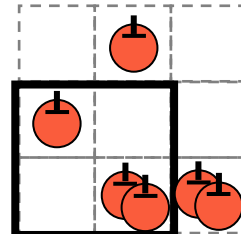
かずさがし

・いわれたところを「たて2 よこ2 のしかく」でかこみましょう

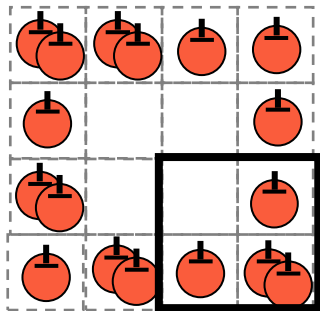
(13) 2こはどこ？



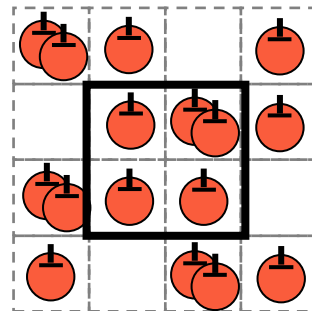
(14) 3こはどこ？



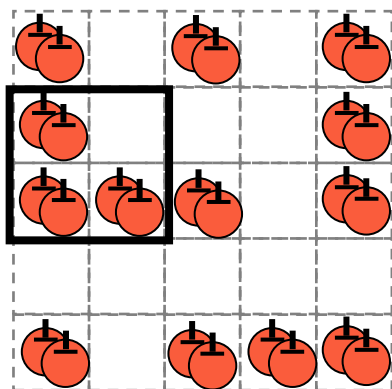
(15) 4こはどこ？



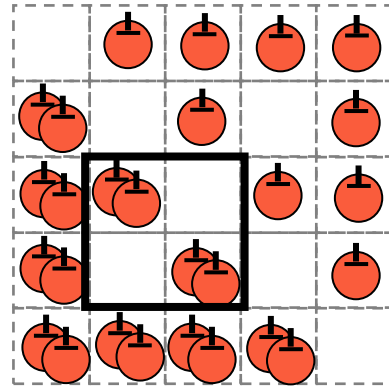
(16) 5こはどこ？



(17) 6こはどこ？



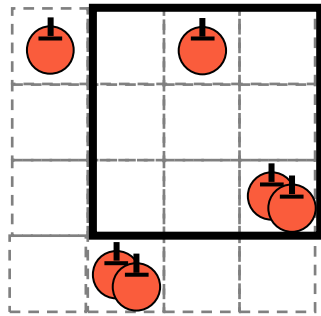
(18) 4こはどこ？



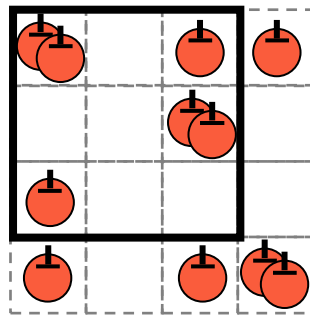
かずさがし

・いわれたところを「たて3 よこ3 のしかく」でかこみましょう

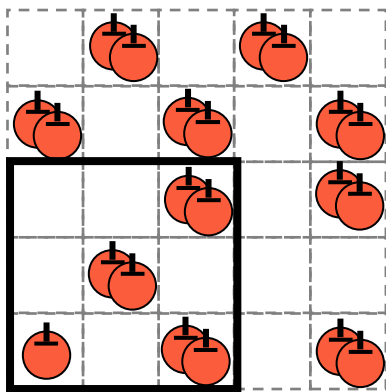
(19) 3こはどこ？



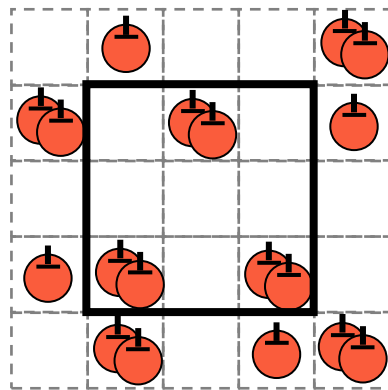
(20) 6こはどこ？



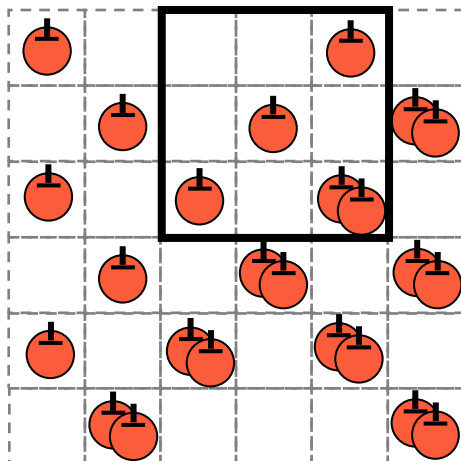
(21) 7こはどこ？




(22) 6こはどこ？



(23) 5こはどこ？



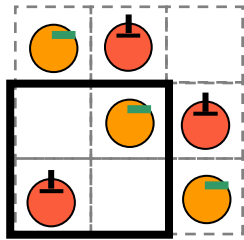
(24) 10こはどこ？



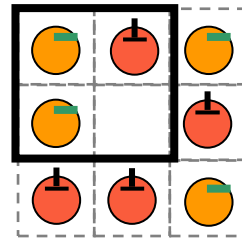
かずさがし

いわれたところを「たて2 よこ2のしかく」でかこみましょう

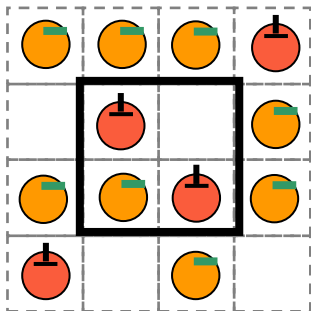
(25) リンゴとミカンのかずがおなじなのはどこ？



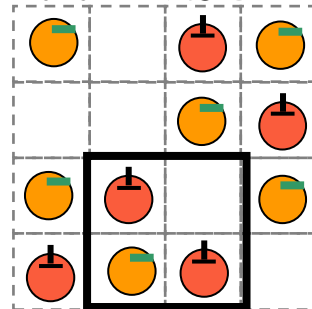
(26) ミカンがリンゴよりおいしいのはどこ？



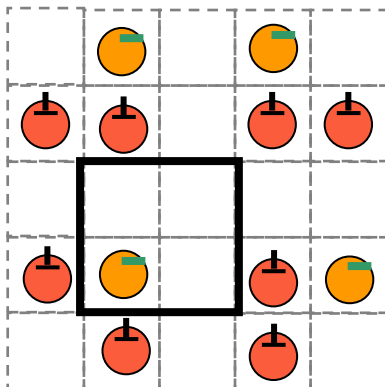
(27) ミカンがリンゴよりすくないのはどこ？



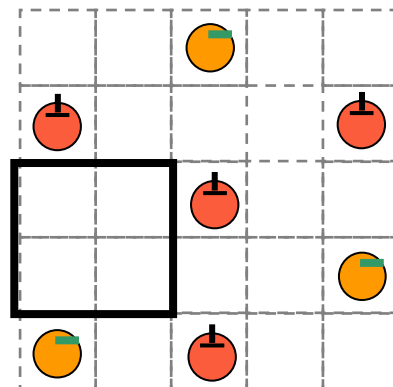
(28) リンゴがミカンよりおいしいのはどこ？



(29) リンゴがミカンよりすくないのはどこ？



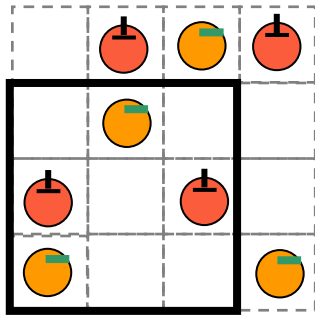
(30) リンゴとミカンのかずがおなじなのはどこ？



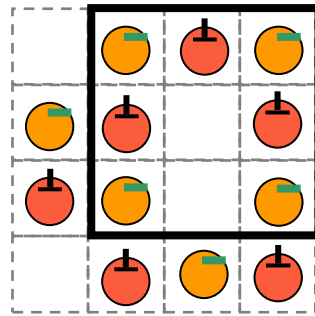
かずさがし

いわれたところを「たて3 よこ3のしかく」でかこみましょう

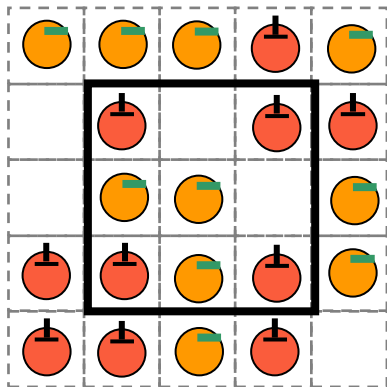
(31) リンゴとミカンのかずがおなじなのはどこ？



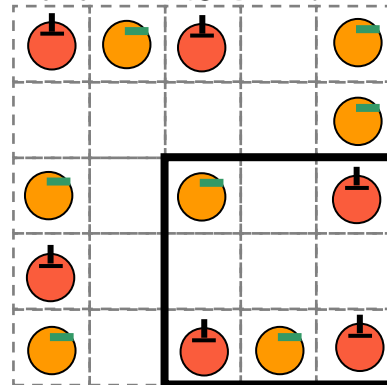
(32) ミカンがリンゴよりおいしいのはどこ？



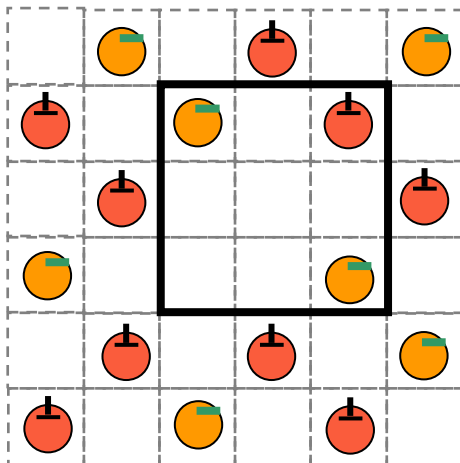
(33) ミカンがリンゴよりすくないのはどこ？



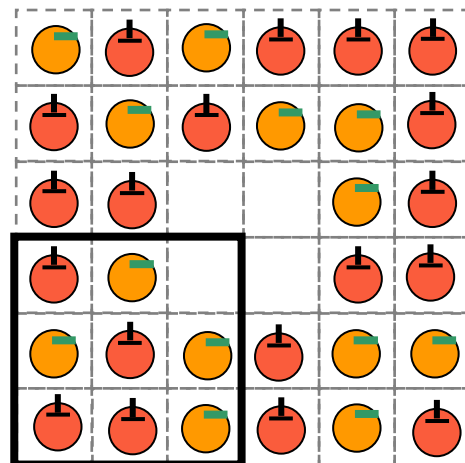
(34) リンゴがミカンよりおいしいのはどこ？



(35) リンゴがミカンよりすくないのはどこ？



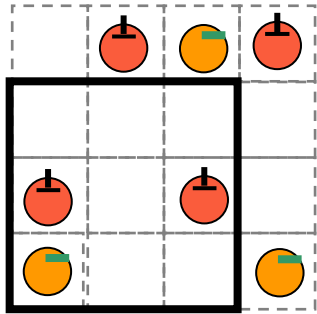
(36) リンゴとミカンのかずがおなじなのはどこ？



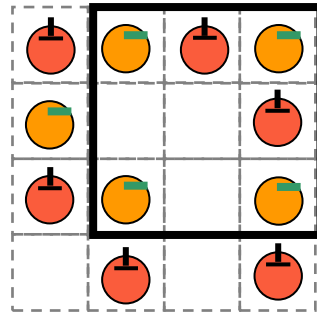
かずさがし

いわれたところを「たて3 よこ3のしかく」でかこみましょう

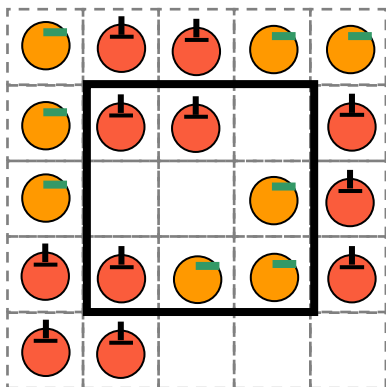
(37) リンゴとミカンのかずの
さが1なのはどこ？



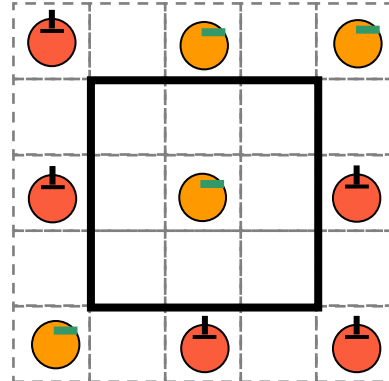
(38) リンゴとミカンのかずの
さが2なのはどこ？



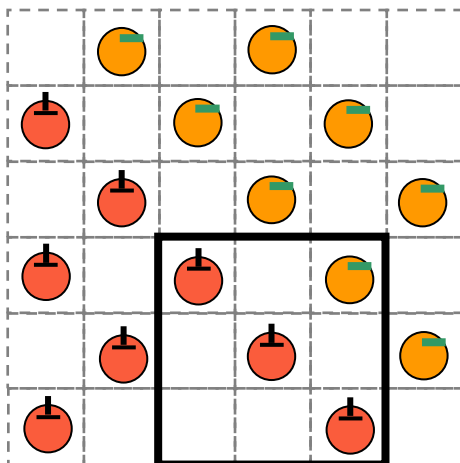
(39) リンゴとミカンのかずの
さが0なのはどこ？



(40) リンゴとミカンのかずの
さが1なのはどこ？



(41) リンゴとミカンのかずの
さが2なのはどこ？



(42) リンゴとミカンのかずの
さが0なのはどこ？

